

CAP CP

2023 / 2024

1 - comparer les nombres

Planning CAP « comparer des nombres »

	dates	activités	documents
S 1	du 27 / 11 au 01 / 12 / 2024	Les grands nombres : manipulation de cubes, comparaison de tours (utiliser les termes plus grand, plus petit, égal)	
S 2	du 04 au 08 / 12 / 2024	Les grands nombres : jeu sur ardoise « lequel est le plus grand? », placer des nombres sur une frise numérique	
S 3	du 11 au 15 / 12 / 2024	évaluation 1 + entraînement chronométré sur feuille	- évaluation 1 - 4 fiches d'exercices indi- viduels
S 4	du 18 au 22 / 12 / 2024	entraînement chronométré sur feuille +exercices individuels « trouver les nom- bres et les comparer » (introduction des signes de comparaison) + placer des nom- bres sur une frise numérique	- 4 fiches d'exercices indi- viduels
S 5	du 08 au 12 / 01 / 2024	évaluation 2 + entraînement chronométré sur feuille + exercices individuels « trouver les nombres et les compa- rer » (introduction des signes de compa- raison) + placer des nombres sur une frise numérique / nombres de plus en plus grands	- évaluation 2 - 4 fiches d'exercices indi- viduels
S 6	du 15 au 19 / 01 / 2024	entraînement chronométré sur feuille + exercices individuels « trouver les nombres et les comparer » (introduction des signes de comparaison) + placer des nombres sur une frise numérique / nombres de plus en plus grands	- 4 fiches d'exercices indi- viduels
S 7	du 22 au 26 / 01 / 2024	évaluation 3	- évaluation 3 à faire au moment des évaluations nationales


date :

prénom :


Nombre
de réponses
justes

Comparer les nombres - 1


8	9	7	4	5	6	4	1
2	6	5	9	4	3	9	6
5	4	7	6	2	1	5	8
3	2	5	1	9	8	3	4
4	1	8	9	4	5	2	6
2	5	1	4	8	7	5	1
3	6	8	5	2	3	9	8
8	4	1	2	6	7	5	4
6	7	4	3	9	5	1	2
2	1	5	6	4	8	7	6




4 6	3 4	5 8	8 7	0 1	4 5
5 8	9 5	2 3	9 5	2 8	8 2
9 4	6 6	3 9	5 6	7 6	9 7
0 3	4 2	7 4	7 8	3 7	4 3
1 5	8 7	9 0	6 2	8 9	5 8
8 9	7 9	4 8	4 3	6 3	2 4
9 5	7 3	3 5	3 7	7 8	3 6




7 10	9 7	5 15	4 6	8 18	8 20
9 8	6 16	12 2	16 12	9 5	13 15
12 14	10 14	15 5	19 11	10 17	10 15
15 18	17 13	14 10	11 16	17 11	18 16
6 3	11 10	8 9	12 14	15 10	11 17
13 14	12 17	9 19	13 12	7 15	17 11
15 19	14 13	3 10	9 8	3 6	15 14



4	7	14	18	18	16	23	25	24	21	34	31
2	8	18	15	19	9	25	23	19	20	26	36
8	4	19	16	14	12	28	20	8	18	32	23
7	5	11	12	13	3	19	29	14	17	33	13
6	9	12	10	16	14	27	21	26	27	38	27
9	1	15	14	18	17	29	30	23	22	37	31
10	12	16	18	10	12	25	17	20	24	39	19




14	21	27	25	29	34	34	43	38	42	28	27
18	16	23	21	21	22	36	24	24	27	45	41
19	12	28	21	34	35	33	30	48	38	39	36
10	18	21	24	25	31	21	12	45	18	25	24
12	21	18	19	36	6	37	39	13	31	47	49
13	20	25	17	39	29	25	28	45	24	41	79
15	10	19	27	25	28	36	34	40	4	13	31




25	33	34	43	43	25	42	24	56	53	58	24
32	26	37	27	15	25	26	35	51	55	51	32
24	42	30	33	47	36	47	51	54	52	50	53
27	25	31	21	41	14	45	44	25	52	56	55
14	41	28	30	38	36	39	29	53	51	57	52
28	21	37	35	40	44	41	31	41	47	53	35
20	30	35	45	46	26	30	3	57	47	20	42



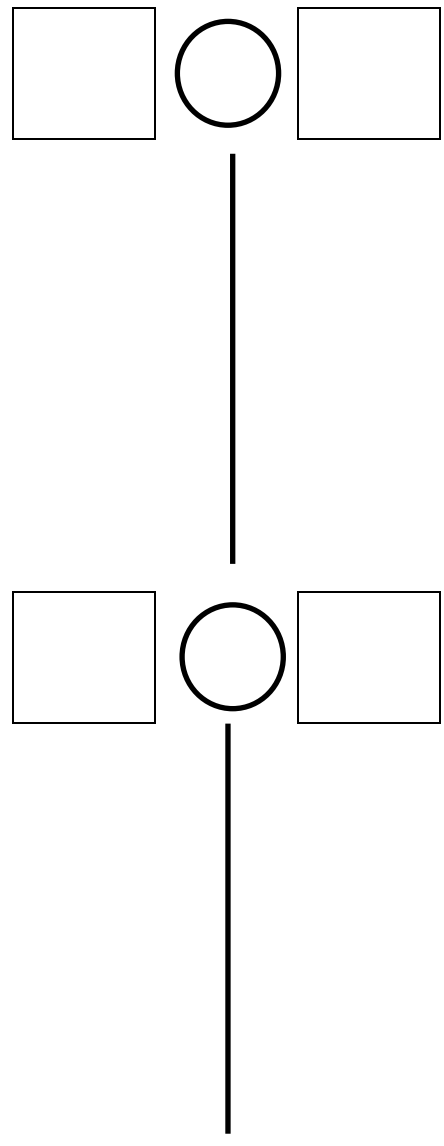
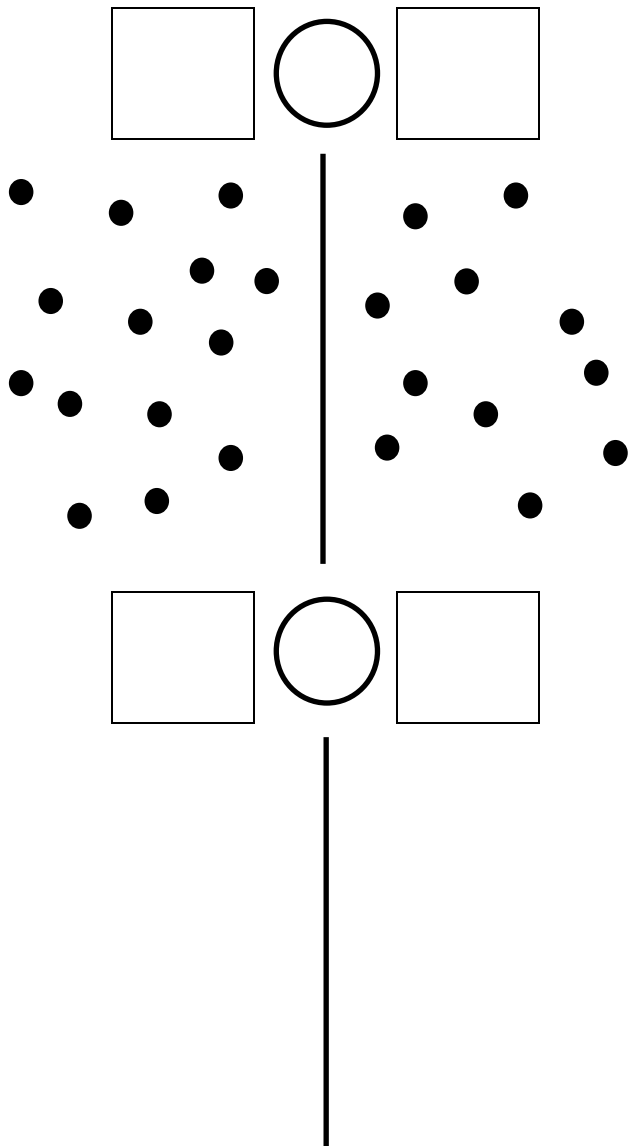
34	42	45	54	49	24	37	45	65	56	61	17
37	25	44	38	53	61	56	55	46	33	54	52
28	21	49	31	61	28	55	31	23	22	52	33
35	53	32	48	48	37	62	24	61	16	66	45
42	31	28	38	34	21	67	69	50	58	55	21
33	30	35	50	28	18	43	51	34	56	61	38
37	34	41	14	19	20	69	21	68	31	36	63



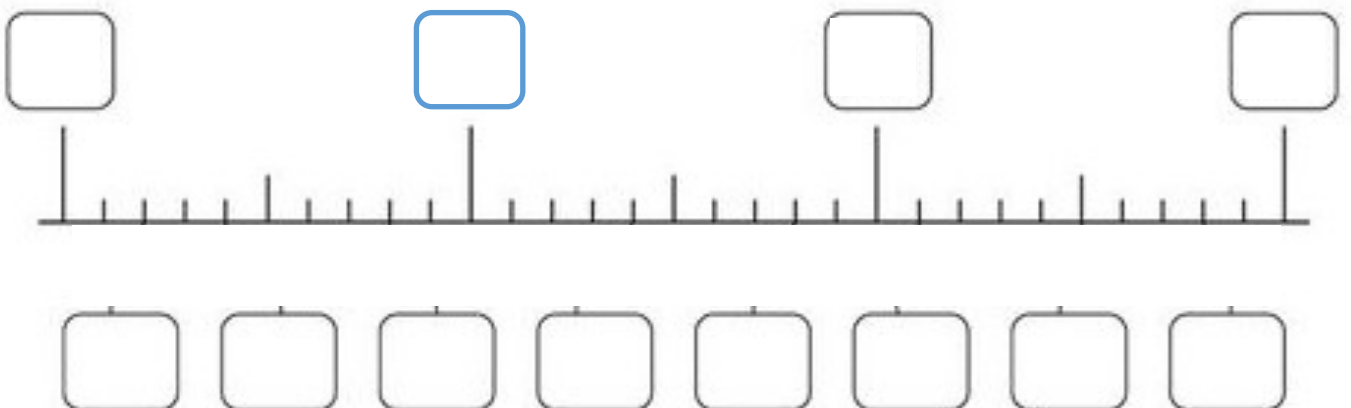
35	32	48	27	45	42	23	52	44	22	19	56
24	14	23	65	47	56	17	74	91	19	45	23
45	56	66	23	56	43	56	25	100	99	62	22
61	78	79	23	81	18	32	12	23	45	37	73
82	21	84	36	77	66	60	50	45	62	25	26
38	88	90	17	89	98	45	21	52	55	68	65
54	59	36	68	23	51	23	47	27	26	69	78

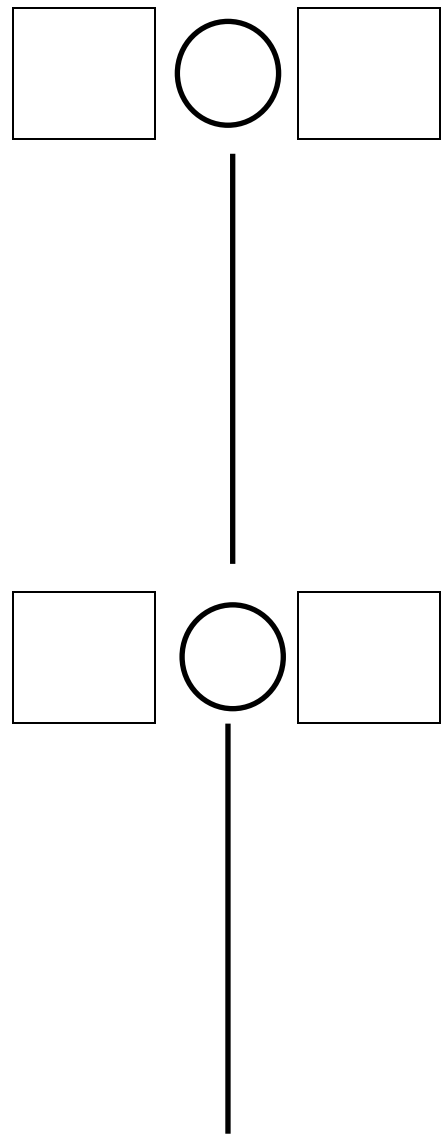
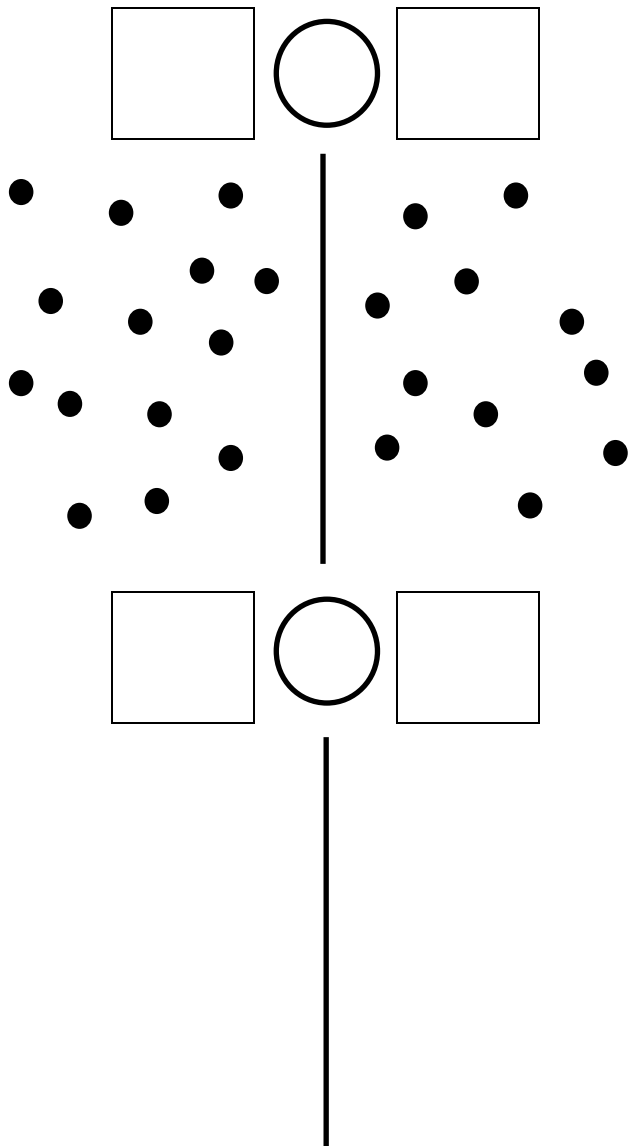


54	27	35	41	99	55	24	80	41	33	44	45
72	56	26	74	56	21	32	36	92	85	53	35
89	33	91	12	45	74	58	65	28	55	29	91
26	58	17	20	72	81	40	39	47	24	51	15
33	47	24	33	81	24	21	24	18	81	74	45
54	45	72	89	93	94	65	12	25	17	10	100
75	23	56	54	43	78	36	63	65	68	47	21

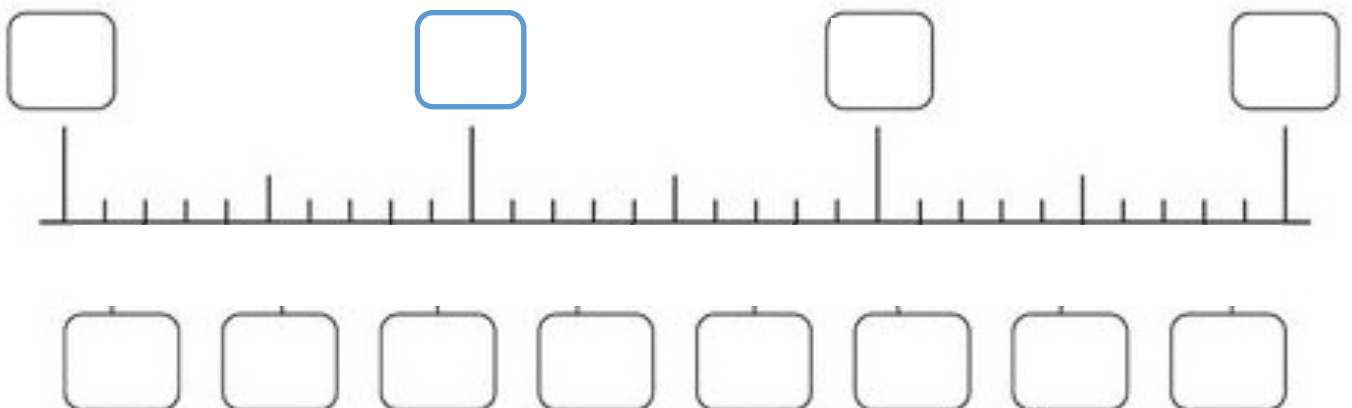


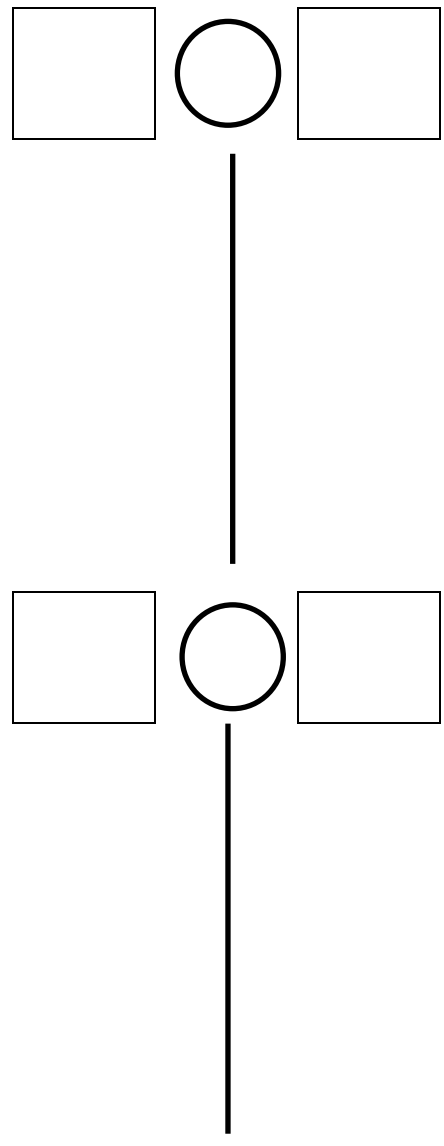
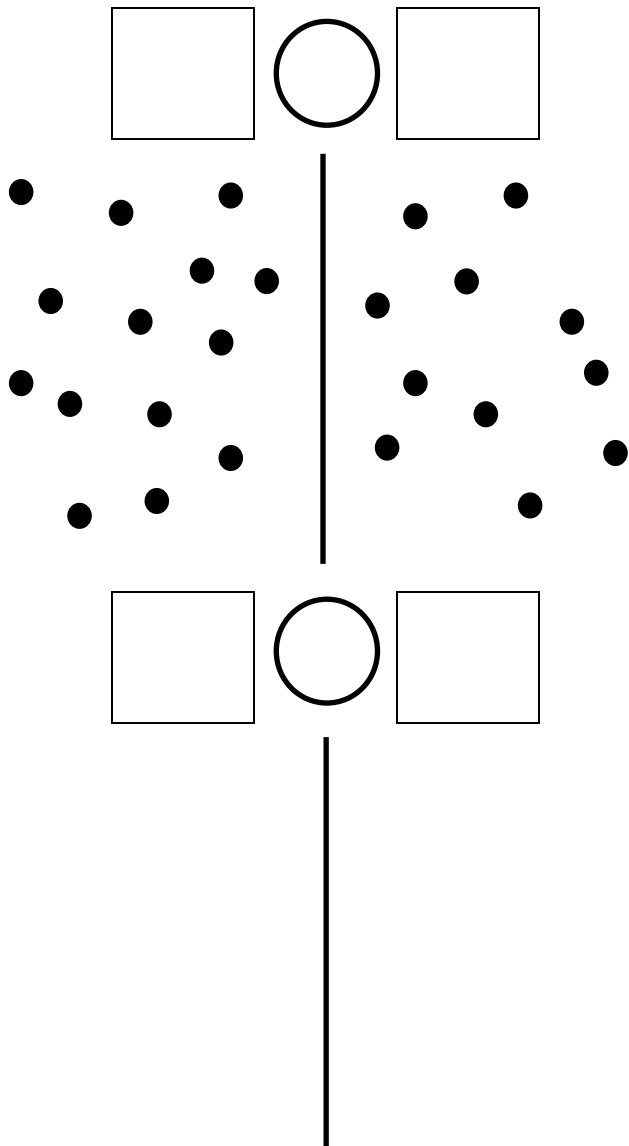
2 Place les nombres sur la ligne.



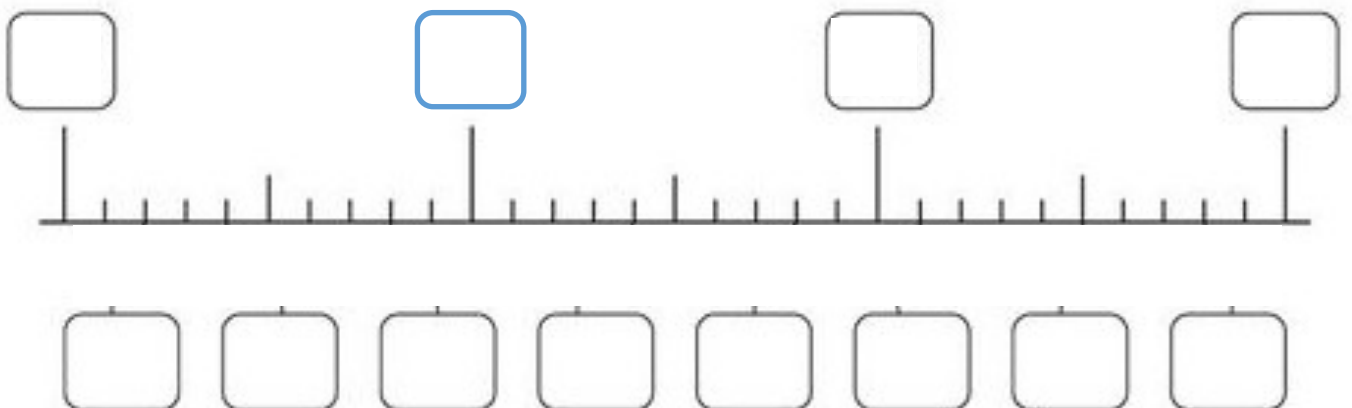


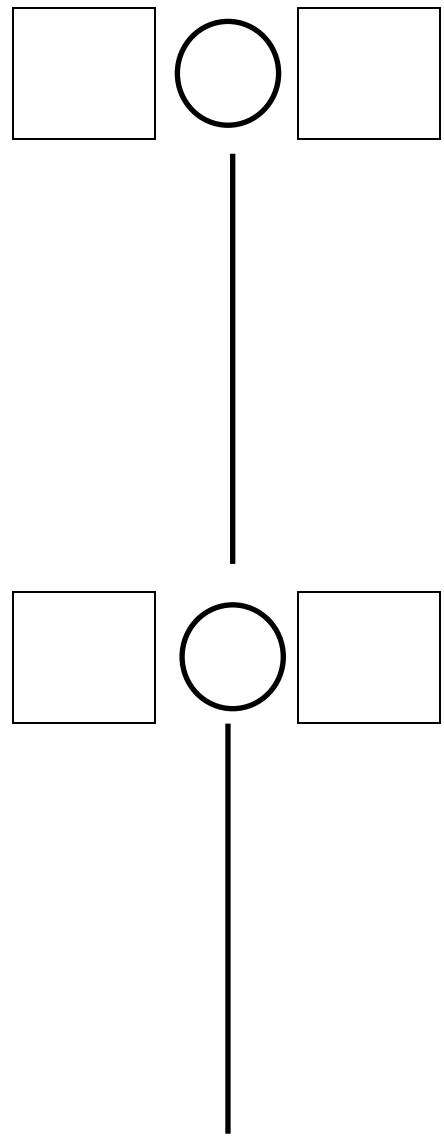
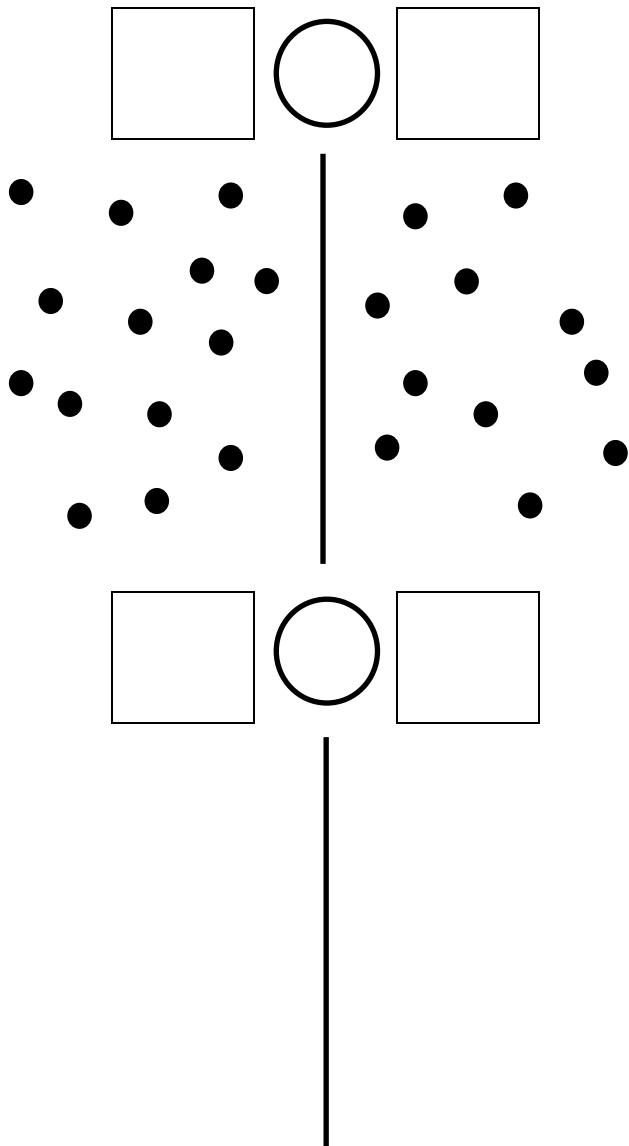
2 Place les nombres sur la ligne.



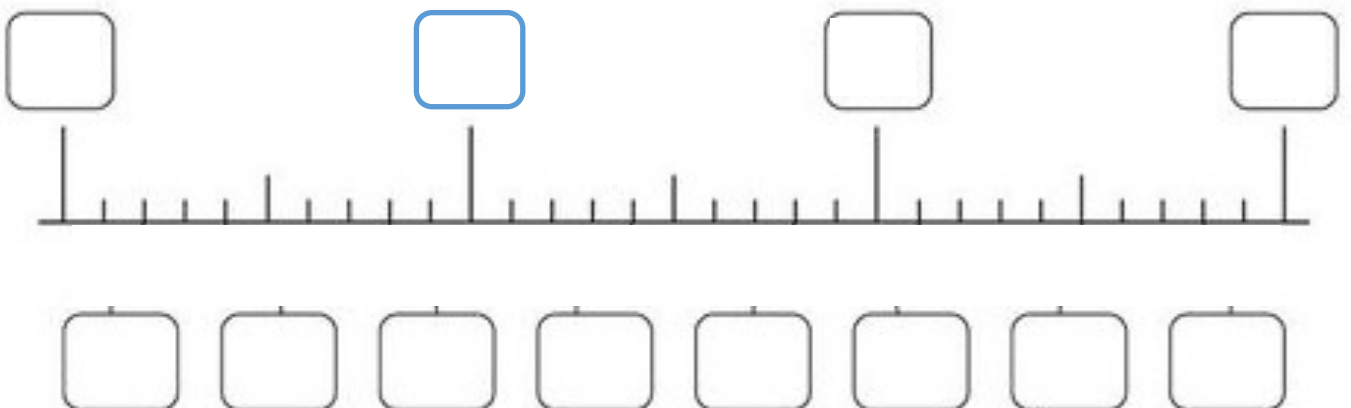


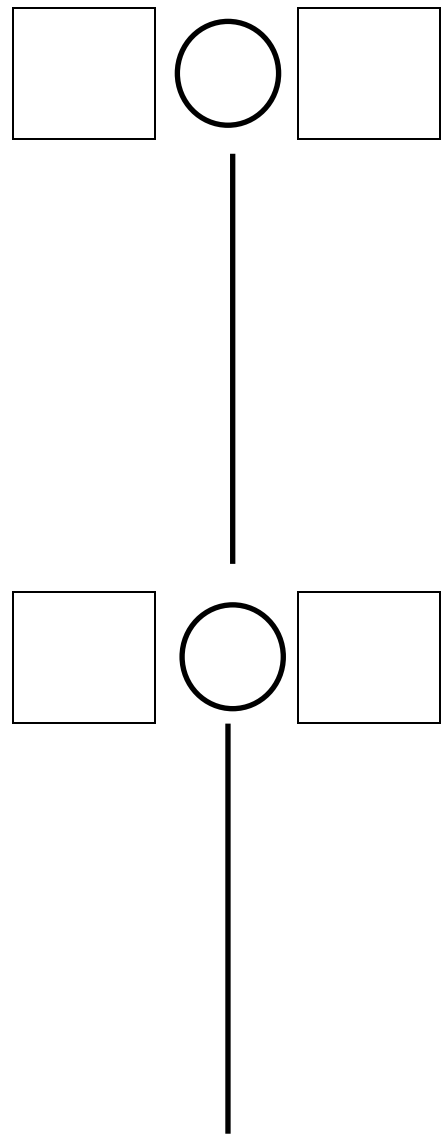
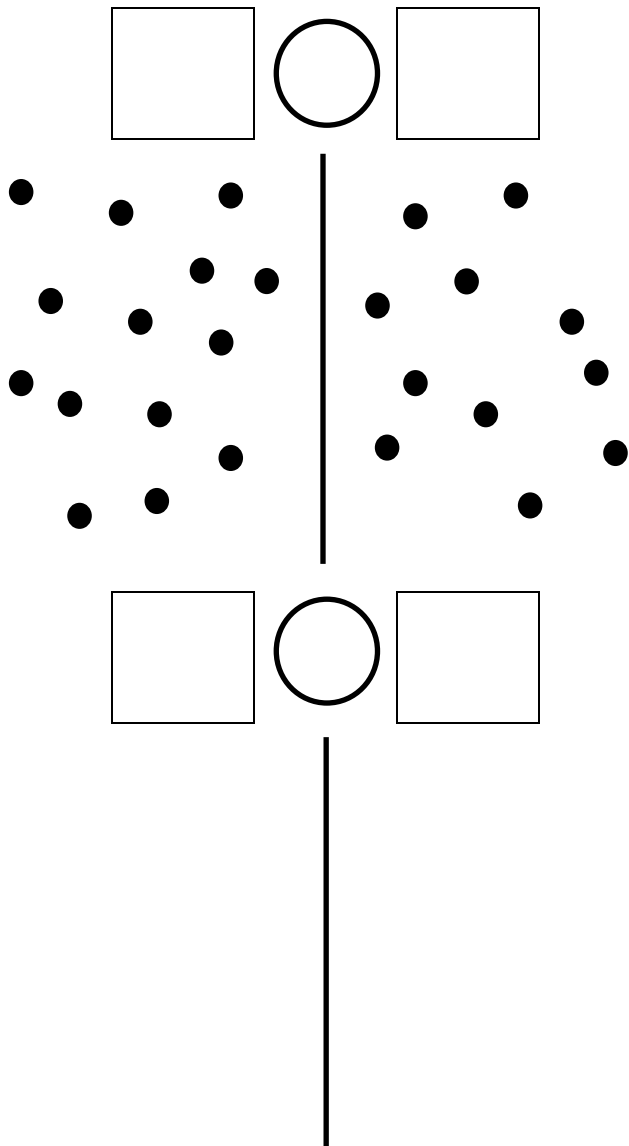
2 Place les nombres sur la ligne.



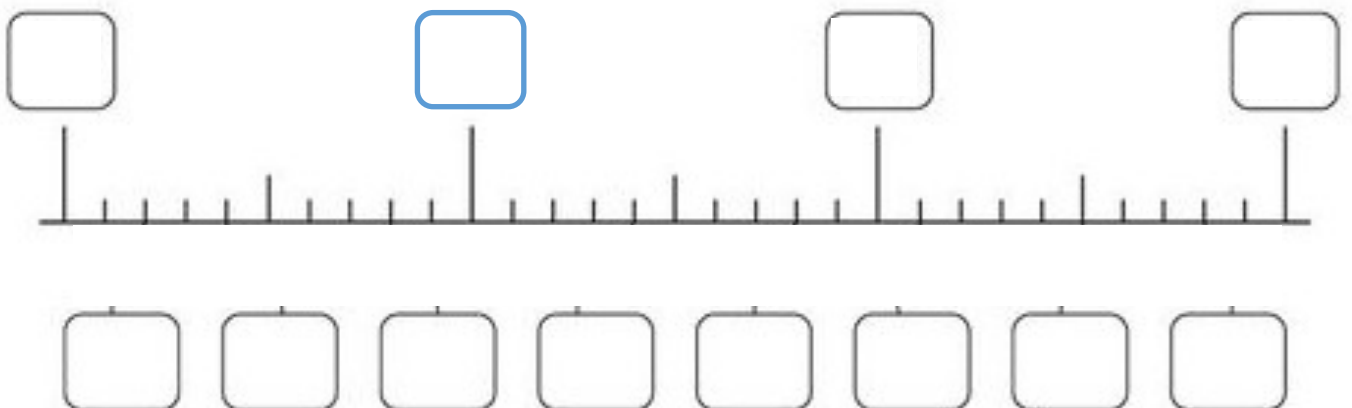


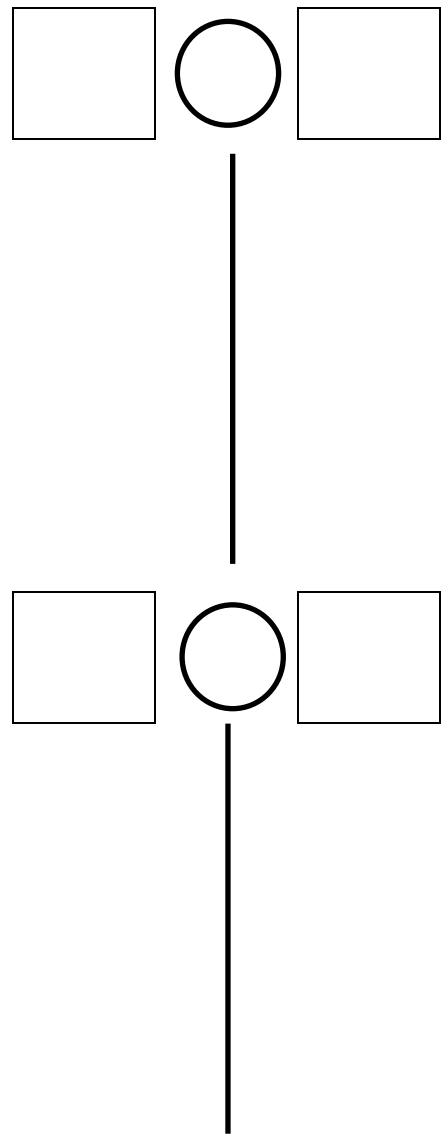
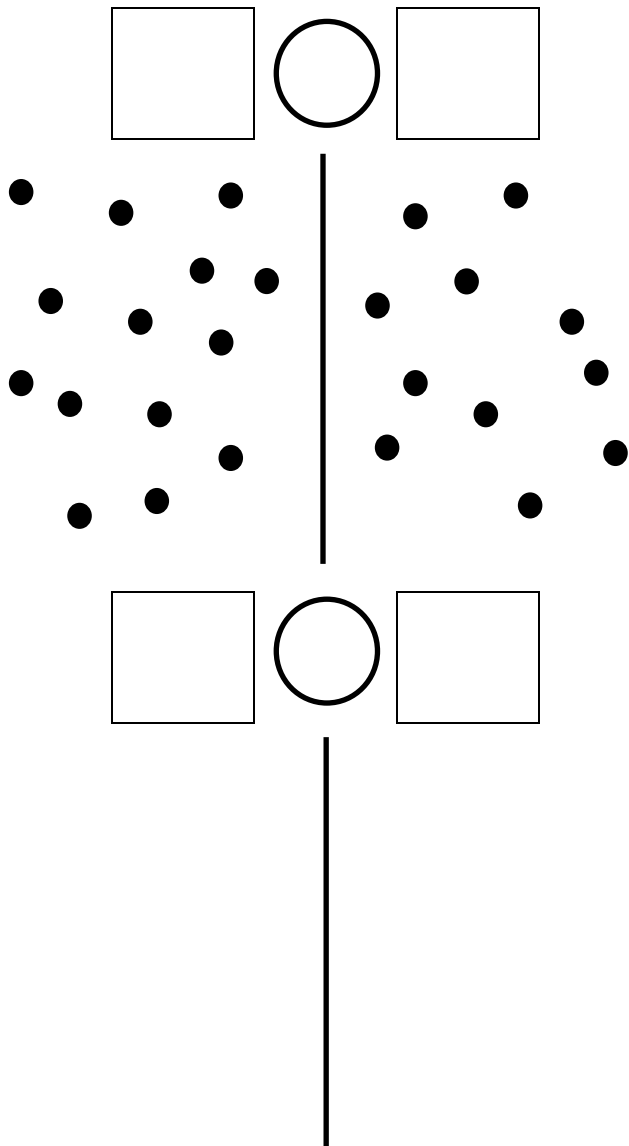
2 Place les nombres sur la ligne.



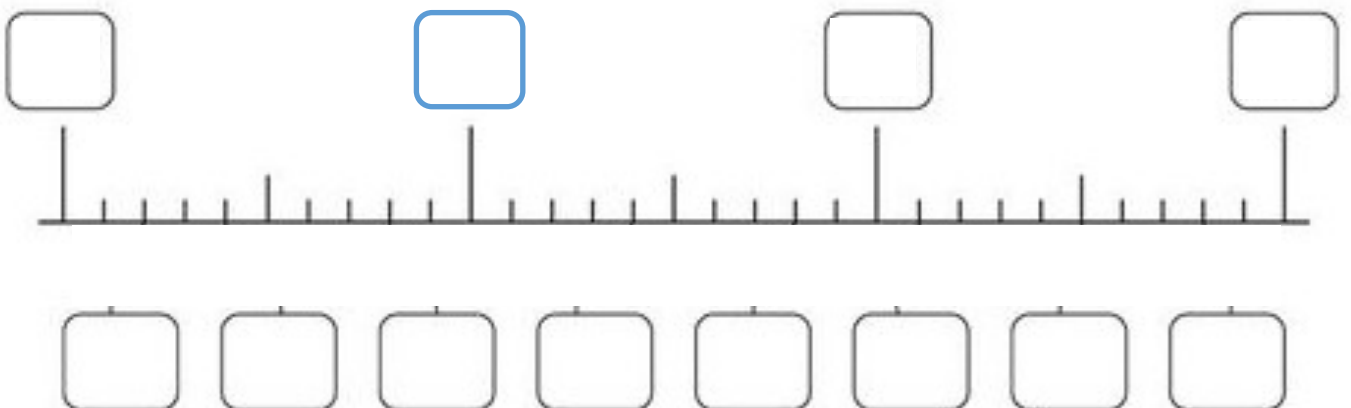


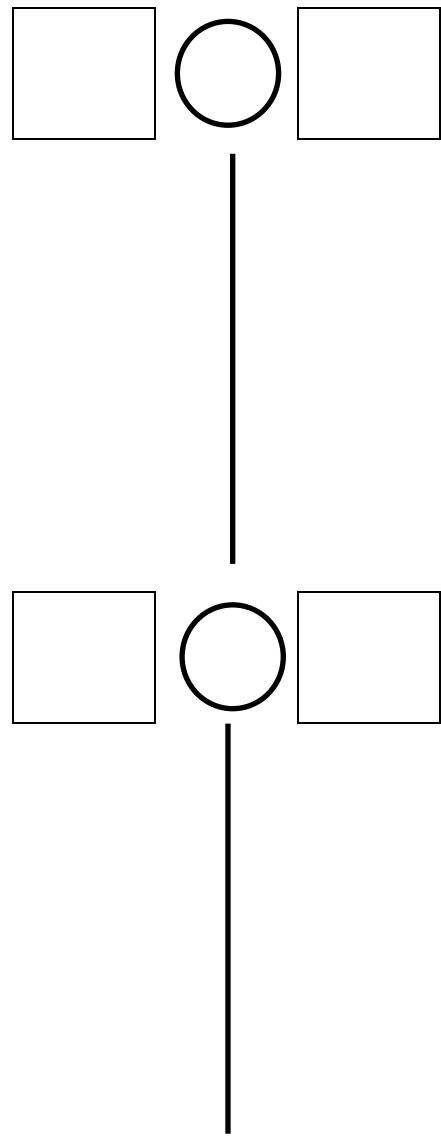
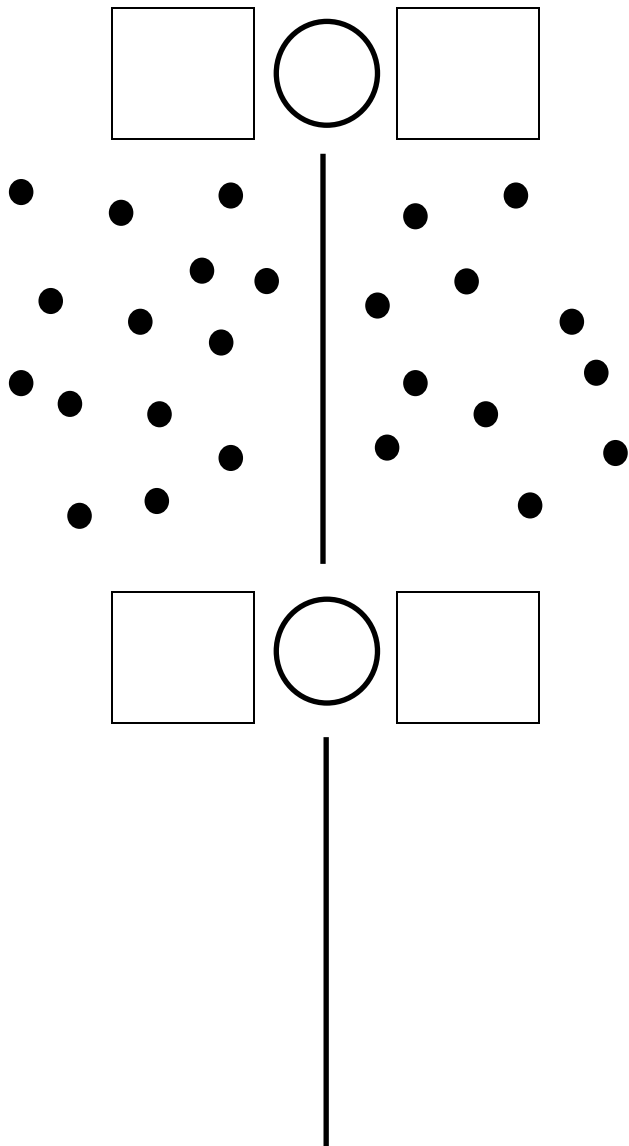
2 Place les nombres sur la ligne.



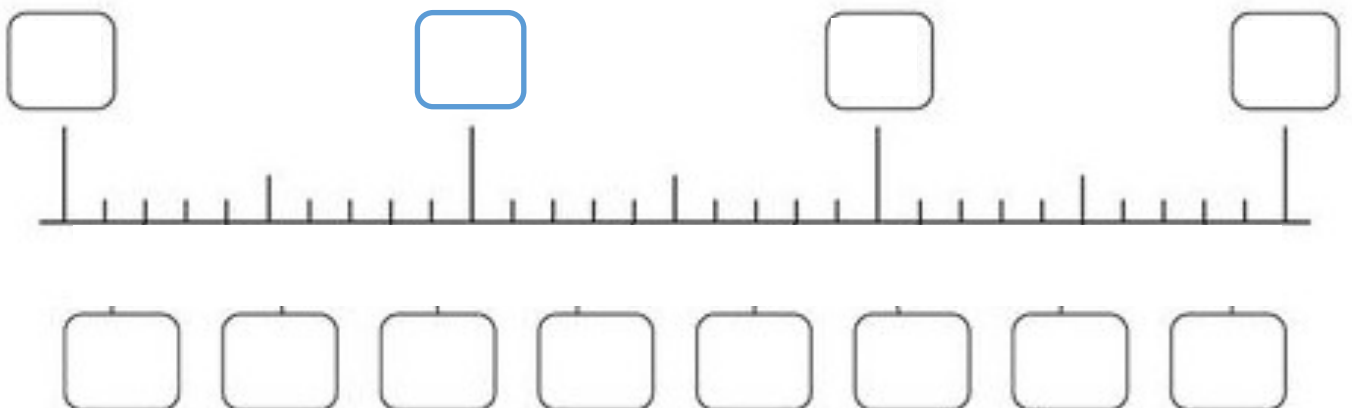


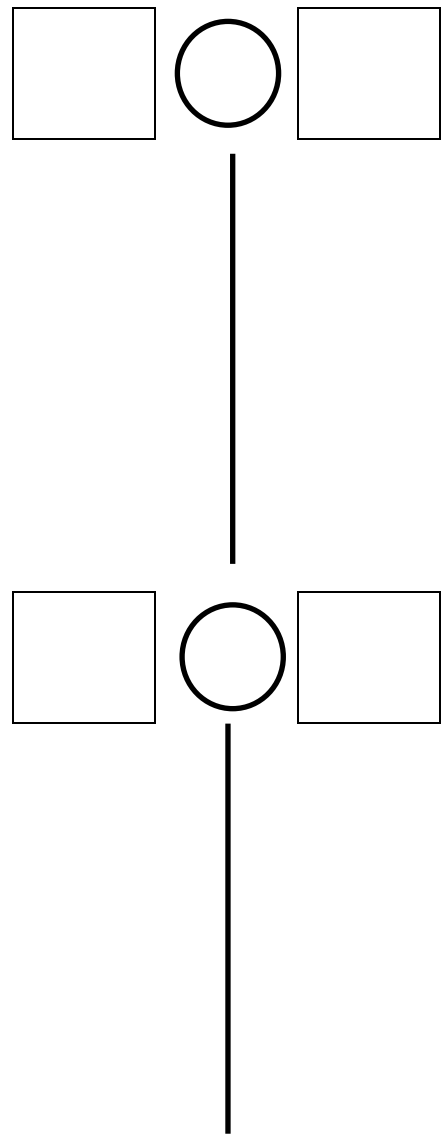
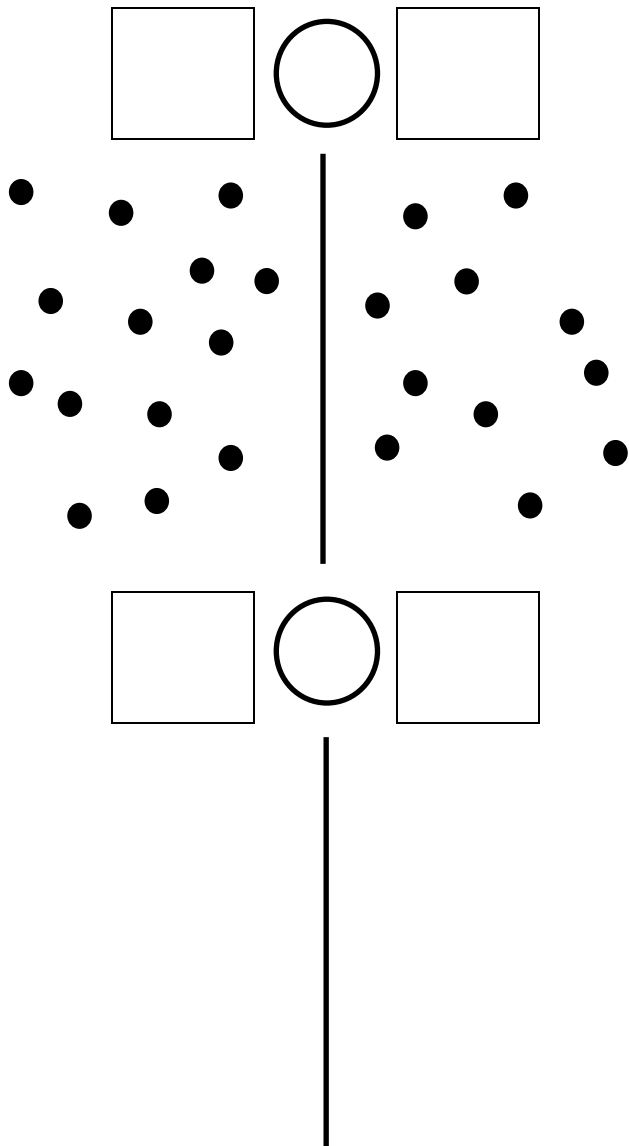
2 Place les nombres sur la ligne.



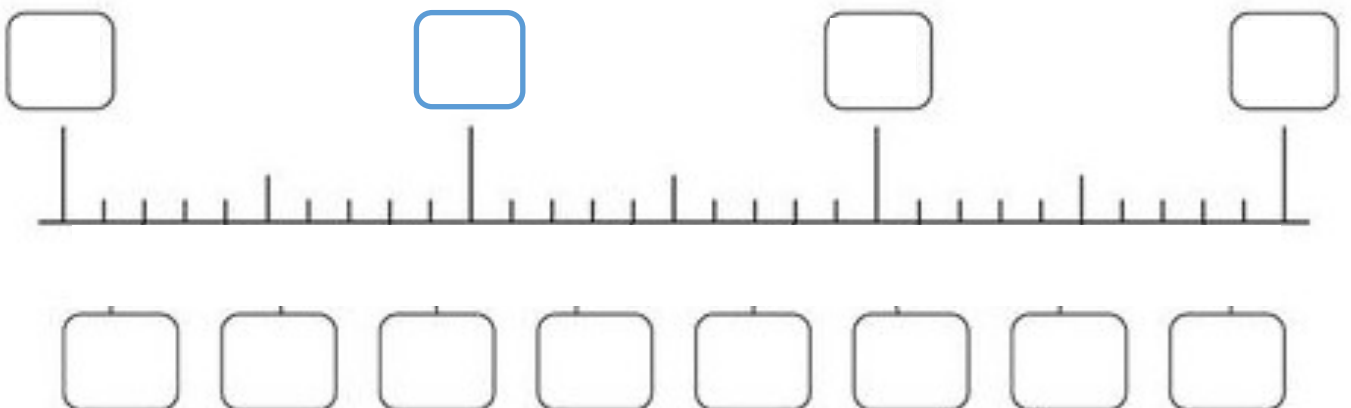


2 Place les nombres sur la ligne.





2 Place les nombres sur la ligne.



date :

Nombre

prénom :

de réponses
justes

Comparer les nombres - 2

8	9	7	4	5	6	4	1
2	6	5	9	4	3	9	6
5	4	7	6	2	1	5	8
3	2	5	1	9	8	3	4
4	1	8	9	4	5	2	6
2	5	1	4	8	7	5	1
3	6	8	5	2	3	9	8
8	4	1	2	6	7	5	4
6	7	4	3	9	5	1	2
2	1	5	6	4	8	7	6

date :

prénom :

Nombre

de réponses
justes

Comparer les nombres - 3

8	9	27	22	11	14	31	39
2	6	18	19	32	31	11	12
5	4	26	25	28	34	28	29
3	2	15	31	13	18	25	18
4	1	37	36	25	24	38	14
2	5	21	24	34	27	16	32
3	6	34	39	21	33	38	35
8	4	20	21	17	16	15	25
6	7	34	13	23	25	38	39
2	1	17	12	31	19	28	25

CAP « Comparer des nombres »

évaluation 1	évaluation 2	évaluation 3																	